

## Урок 61. Читання прикладів. Задачі

**1.** Потренуйся в читанні прикладів. Що спільного між прикладами?

$$6 + 2 = 8$$

... плюс ...

До ... додати ...

... збільшити на ...

Сума чисел ...

$$8 - 2 = 6$$

... мінус ...

Від ... відняти ...

... зменшити на ...

Різниця чисел ...


**2.** Козаки зупинилися біля річки на нічліг. 10 козаків стали на варті. Четверо козаків варили куліш. На скільки менше козаків, що варили куліш, ніж тих, що стояли на варті?



**3.** Бабуся заспівала внучці 5 колискових пісень, а дідусь – 7 козацьких пісень. На скільки більше пісень почула внучка від дідуся, ніж від бабусі?



**4.** На кожному малюнку вибери три числа, з яких можна скласти сімейство прикладів. Запиши приклади.



**5.** З яких прикладів на додавання склали ці приклади на віднімання? Запиши.

$6 - 2 = 4$	$9 - 1 = 8$
$6 - 4 = 2$	$9 - 8 = 1$

🔔 **Урок 62. Числовий вираз** 🔔

**1.** Які кубики потрібно поставити після **=** ?

--	--




**Довідничок**

<b>числові вирази</b>	$1 + 2 = 3$	$5 - 1 = 4$	<b>значення числових виразів</b>
-----------------------	-------------	-------------	----------------------------------

Числові вирази складаються з чисел і знаків арифметичних дій.

**2.** Склади з чисел на кожній картці числові вирази на додавання та віднімання. Запиши. Знайди значення цих числових виразів.



**3.** Чим подібні й чим відрізняються записи:

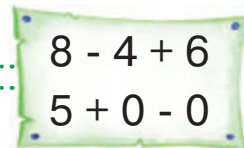
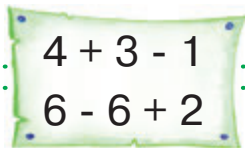
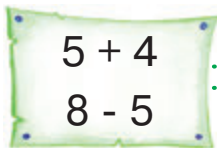
$5 + 2$  і  $5 + 2 - 1$  ?



**Довідничок**

значення числового виразу  
 числовий вираз **на дві дії**  
**Дії виконують за порядком.**

**4.** Знайди значення числових виразів.



**5.** З кожної пари прикладів склади числовий вираз на дві дії та знайди його значення.

$4 + 2 = 6$   
 $6 + 1 = \dots$

$9 - 1 = 8$   
 $8 + 2 = \dots$

$6 + 4 = 10$   
 $10 - 2 = \dots$

$4 + 2 + 1 = \square$

$?$

$?$

**6.** Доповни умови задач. Розв'яжи.

У спортсмена – 2  |  – 4  
 На полиці – ?, на 4  ... |  – ?, на 3 ...


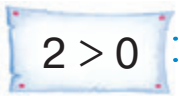
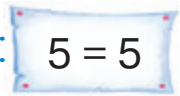
1235

 **Урок 63** 

5432

Пригадай!  **Знак менше** <  **Знак більше** >

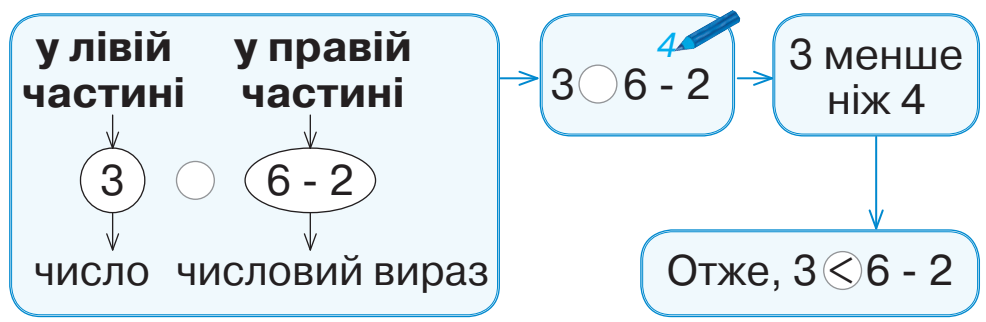
**1.** Прочитай записи.

**2.** Поміркуй, як порівняли число та числовий вираз.



Перевір, чи правильно ти міркував.





3.

$7 \bigcirc 3 + 3$

$5 + 3 \bigcirc 9$

$6 \bigcirc 2 + 4$








$1 \bigcirc 10 - 8$


$7 - 3 \bigcirc 2$

$4 - 3 \bigcirc 1$

4. Допоможи кожній краплинці напоїти свою квіточку. Зроби записи за зразком. Яка краплинка не знайшла свою квіточку?


$3 + 3$     $8 - 4$     $5 + 3$     $10 - 9$     $9 - 6$     $1 + 4$     $8 + 2$


... > 5

Зразок:

$3 + 3 > 5$


... < 5

5. В озері плаває 7 лебедів. На березі граються лебідь-тато і 5 лебедят. Порівняй, де більше лебедів – у озері чи на березі.

