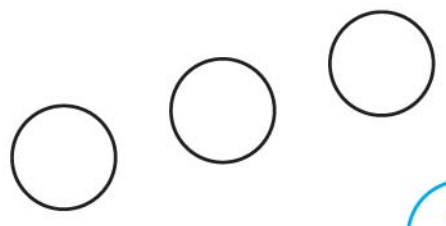
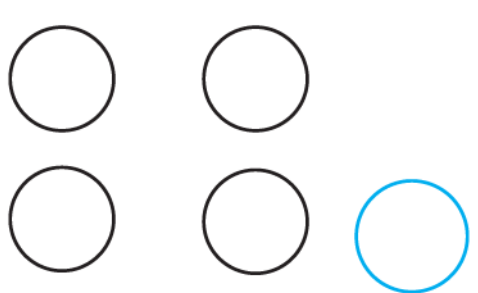
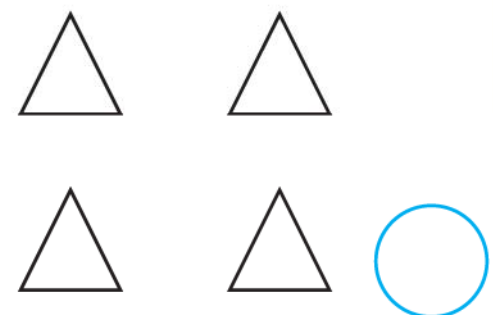

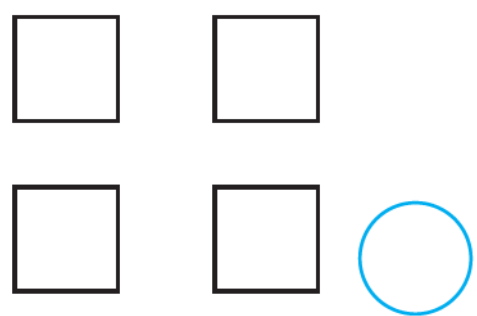



Полічи фігури, напиши відповідні цифри. Домалюй фігури, яких бракує.




 3	
 3	
 5	
 4	5




Намалюй потрібну кількість предметів, напиши відповідну цифру.

2



3

5



4



Полічи й запиши
кількість предметів.



○

○

○

○

○

○

○

○



Напиши пропущені цифри.

2	3	4
---	---	---

1	2	
---	---	--

3		
---	--	--

2		
---	--	--

	4	
--	---	--

	2	
--	---	--

		3
--	--	---

		5
--	--	---

	5	
--	---	--

		7
--	--	---

5		
---	--	--

	6	
--	---	--