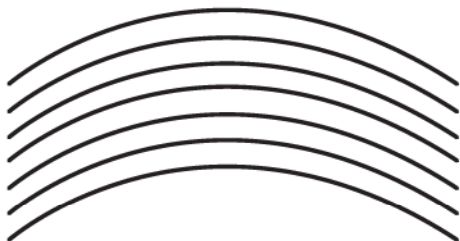



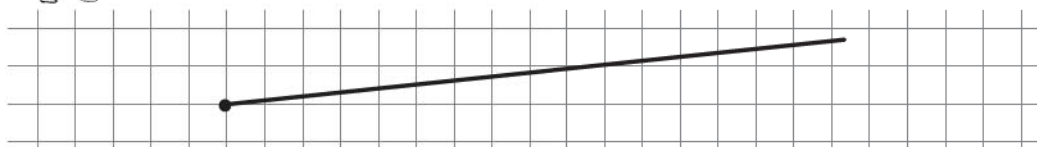
1 клас



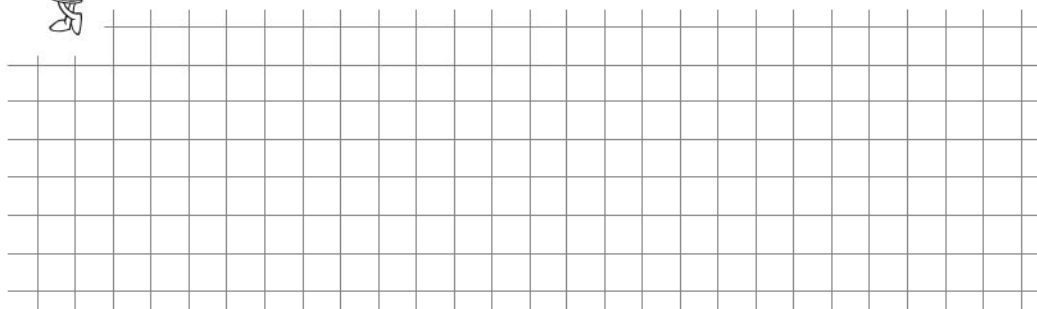
Розглянь малюнок і визнач, у зображенні яких предметів використали прямі лінії, а в яких — криві. Прямі лінії наведи синім олівцем, а криві — зеленим.



Поставивши точку, від неї можна провести лінію у будь-яку сторону. Я зроблю це ось так:



А тепер спробуй ти, змінивши напрямок лінії.



1 клас



Виходить, по цій лінії можна подорожувати тільки в одну сторону?



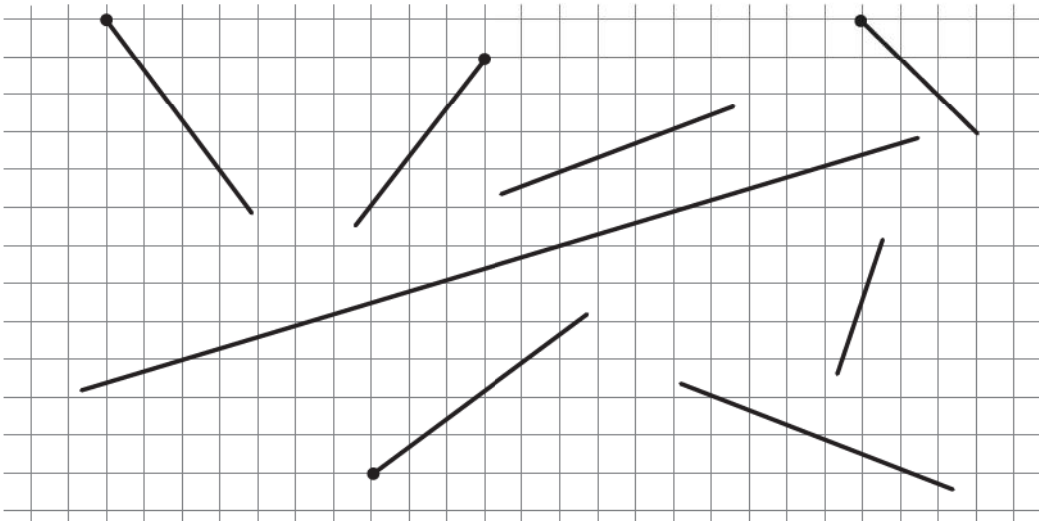
Так, адже це — **промінь**. Це теж родич точки.



ЗАПАМ'ЯТАЙ! *Промінь* — це частина прямої, що виходить з даної точки і прямує до нескінченності в даному напрямку, тобто не має кінця.



Розглянь малюнок. Запиши, скільки на цьому малюнку зображено прямих ліній і скільки променів.



Відповідь. Прямих ліній — ; променів — .



Я здогадалася, чому лінія, в якій є початок, називається променем. Тому що вона схожа на сонячний промінь. Промінчик бере початок від сонця, а далі йде без кінця, хіба що може зустріти на своєму шляху якусь перешкоду.

1 клас



Намалюй сонечко. Наведи на малюнку промені червоним кольором. Познач початок променів латинськими буквами.



А тепер накресли будь-яку пряму лінію. Познач на ній дві точки. Та частина прямої, межами якої будуть ці дві точки, називається **відрізком**.



А відрізок можна продовжити?



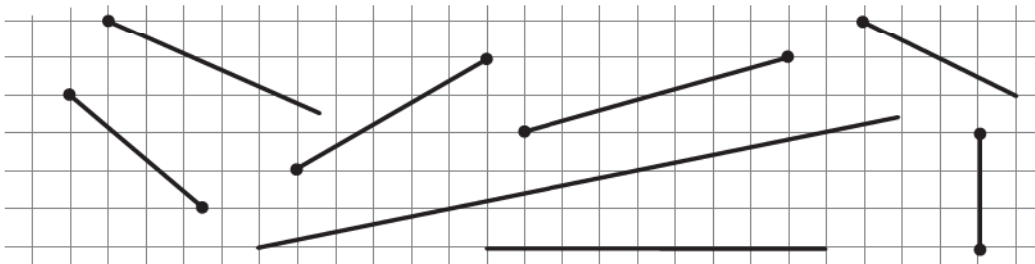
Ні! Тоді це вже буде не відрізок. Це буде або пряма, яку можна продовжити в обидві сторони, або промінь, який можна продовжити тільки в одну сторону.



ЗАПАМ'ЯТАЙ! *Відрізок* — це частина прямої, що обмежена двома точками (початком і кінцем).



Розглянь малюнок, знайди на ньому відрізки і наведи їх зеленим олівцем.

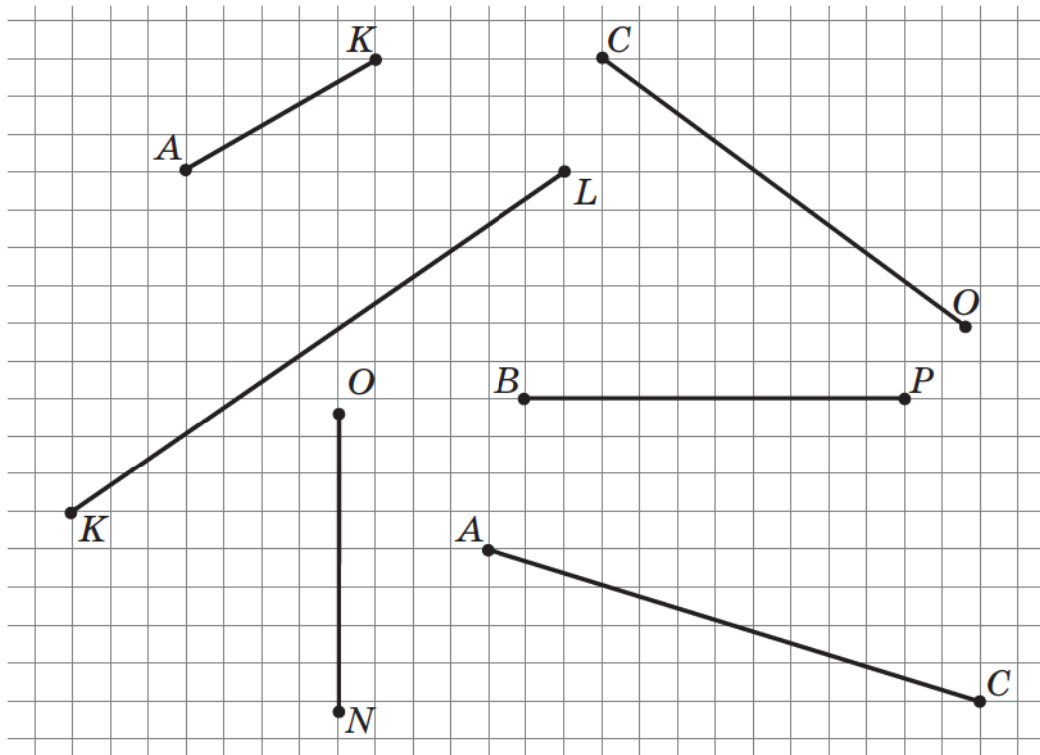


1 клас



Відрізок можна позначити двома великими латинськими буквами. Розглянь відрізки й спробуй їх порівняти. Як ти вважаєш, який із цих відрізків найдовший, а який найкоротший?

Якщо тобі важко виконати завдання, спробуй порівняти відрізки за допомогою нитки або паперової смужки.



Відповідь. Найкоротший відрізок: _____;
найдовший відрізок: _____.



А щоб точно виміряти довжину відрізка, потрібна одиниця вимірювання. Такою одиницею вимірювання довжини є **сантиметр**.

1 см



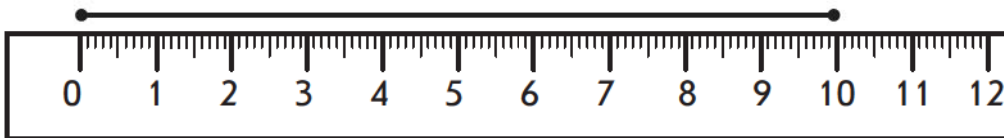
10 см



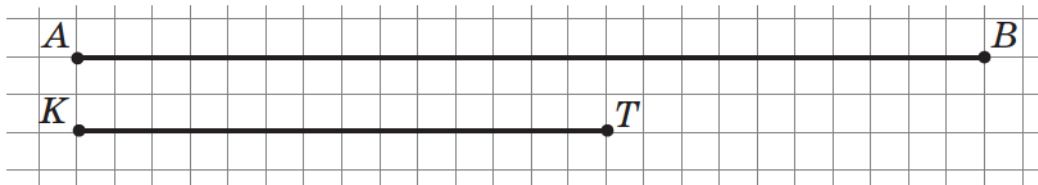
1 клас



Подивись, як треба правильно вимірювати відрізок за допомогою лінійки. Зверни увагу, що вимірювання потрібно починати від нуля.



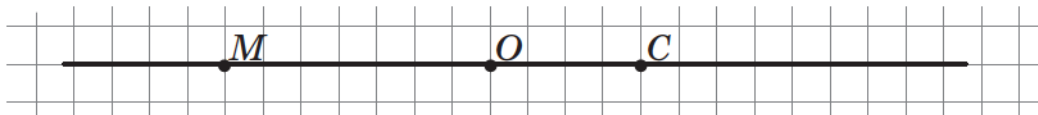
А тепер за допомогою лінійки вимірй і запиши довжину цих відрізків.



Відповідь. AB — _____; KT — _____.



Розглянь малюнок і визнач, скільки відрізків на ньому зображено. Підкресли правильну відповідь.



а) 3 відрізки; б) 5 відрізків; в) 6 відрізків.



Побудуй три відрізки. Довжина першого відрізка — 7 см, довжина другого — на 2 см менша, а довжина третього — на 5 см більша від другого.

