


Тема 55 Весна

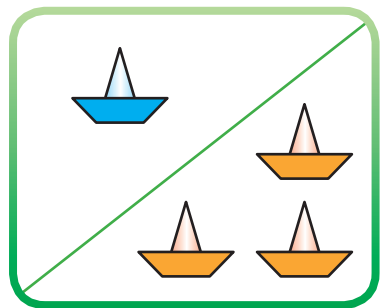
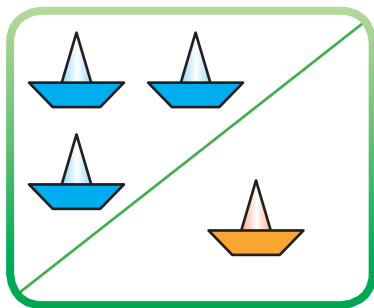
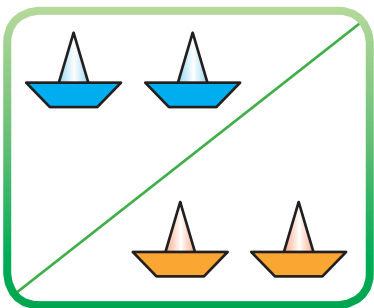
1 Роздивися малюнок. Обведи на малюнку те, що з'являється навесні. Поясни, чому це буває.



2 Склади речення про весну за схемою.



3 Подивися на малюнки й запам'ятай склад числа 4. Познач склад числа 4 різнокольоровими кружечками.



Тема 56 Весняні явища в природі

1 На цих малюнках художник зобразив весняні місяці. Пригадай їхні назви. Обведи рамочку з березневим пейзажем синім кольором, квітневим — червоним, а травневим — зеленим. Поясни.



2 Обведи звукову схему слова сонце. Розкажи про кожний звук.

- - о - -

- о - о -

- о - - о

3 Які числа в ряду пропущені? Знайди у клітинках нижче цифри, якими ці числа можна записати.

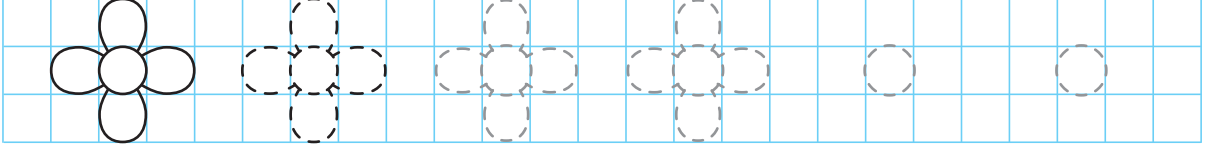
1 2 4 5 7 9 10

2 3 6 7 8

10 9 8 6 5 3 1

5 4 2 7

4 Домалюй квітки за зразком.



Тема 57 Струмок і річка навесні

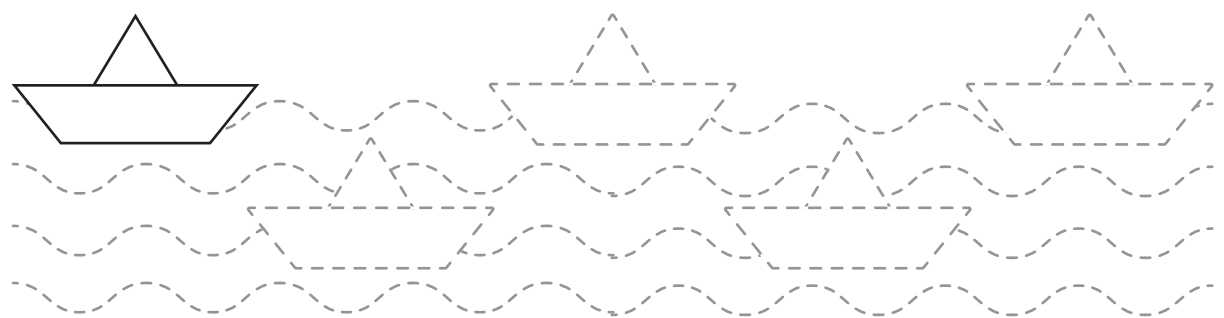
1 Роздивися малюнки. Обведи рамку із зображенням річки зеленим олівцем, а струмка — блакитним. Розкажи, як утворилися весняні струмки.



2 Роздивися малюнок. Скільки тут намальовано горобців, а скільки — синичок? Кого більше?



3 Намалюй хвилі весняного струмочка синім олівцем, а п'ять паперових корабликів — олівцями інших кольорів.



Тема 58 **Допоможемо мамі**

1 Роздивися малюнки. Що робить дівчинка? Що робить хлопчик? Розфарбуй малюнок, який тобі найбільше сподобався. Розкажи, як ти допомагаєш мамі.

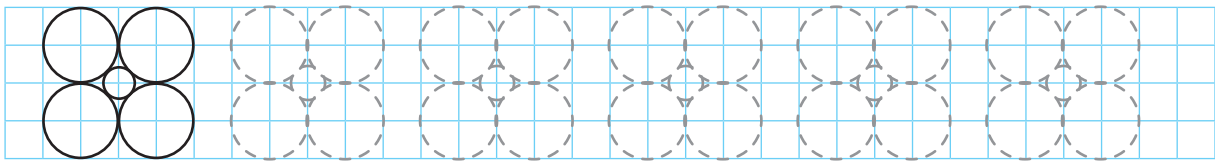


2 Намалюй звукову схему слова *матуся*.

3 Роздивися малюнки і розкажи, з яких менших чисел можна скласти число 5. Обведи квіточки за зразком.

	$1+1+1+1+1$
	$4+1$
	$3+2$
	$2+3$
	$1+4$

4 Намалюй за зразком квіточки. Розфарбуй їх так, щоб вони були різними.



Тема 59 Перші весняні квіти

1 На малюнках зображені весняні першоцвіти: підсніжник, пролісок, мати-й-мачуха. А з якої квітки цей листочок? Обведи рамку з цією рослиною.



2 Вимов слово *підсніжник* по складах і визнач кількість складів. Який склад вимовляється голосніше і довше? Обведи складову схему до слова *підсніжник*. Поясни, чому ти вибрав саме цю схему.



3 Домалюй стільки квіточок кожного виду, щоб їх стало чотири.

