

## Властивості предметів




- 1 Ляльки зібралися на прогулянку, але заплуталися, де чії хустинки і кошики. Допоможи лялькам: з'єднай кожну з її хустинкою і кошиком.




- 2 Назви кожну тварину. Підкресли перший та останній малюнки. Знайди зайву тварину. Скільки може бути варіантів відповідей?



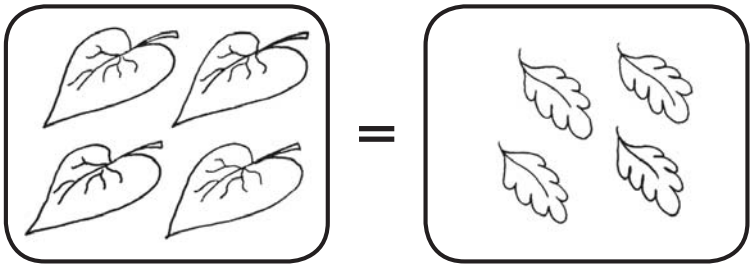
- 3 Розфарбуй намисто, зберігаючи встановлений порядок.



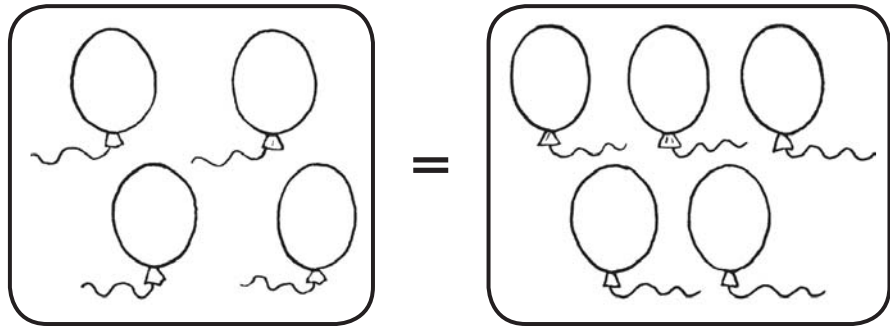


# Порівняння

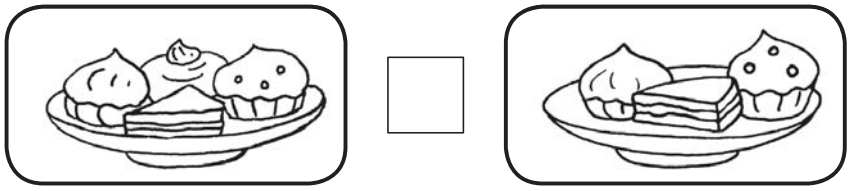
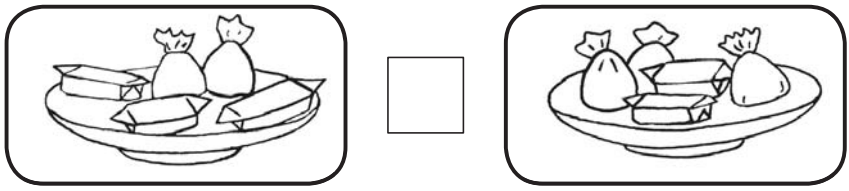
1 Розглянь великі листочки зліва і малі справа. Чи однакова їх кількість? Обведи знак «=» червоним олівцем, якщо це так.




2 Скільки повітряних кульок у кожній рамці? Чи порівну їх? Закресли знак «=», якщо не порівну.



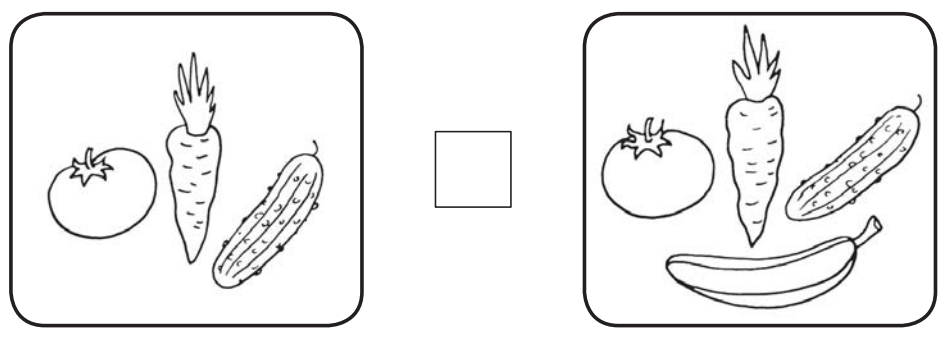
3 Постав знак «=» або «≠».





# Порівняння

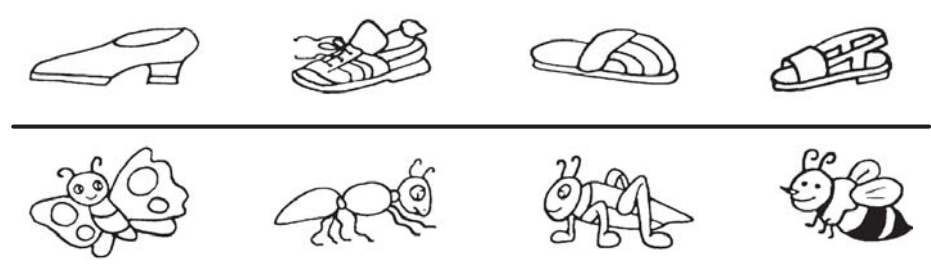
4 Назви предмети в кожній рамці. Чи однакова їх кількість? Постав знак «=» або «≠».



5 Домалюй предмети ліворуч і праворуч так, щоб знаки «=», «≠» були правильними.

	=		≠	
	=		≠	
	=		≠	
	=		≠	

6 Полічи предмети зліва направо. У першому ряді обведи й назви перший і третій предмети. У другому ряді — другий і четвертий.






# Число і цифра 1



1 Знайди зайвий малюнок у кожній рамці й обведи червоним кольором. Поясни свій вибір.



2 Скільки вагонів везе ведмежа?



3 Скільки олівців у коробці? Обведи і зафарбуй цифру 1.



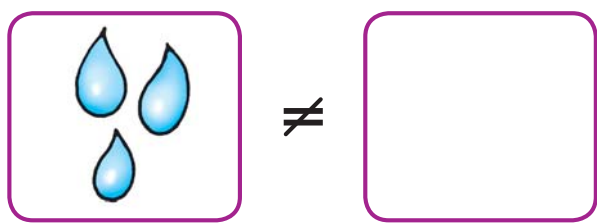
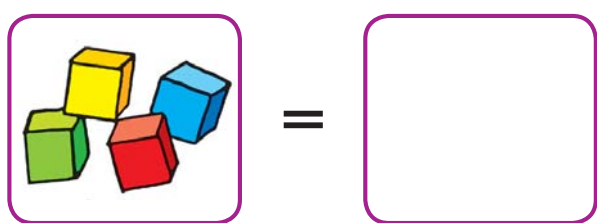
4 Розглянь ялинку. На що схожий її контур? «Сховай» цифру 1 у своєму малюнку.



# Число і цифра 1



5 Намалюй предмети в порожніх рамках так, щоб усі знаки були розставлені правильно.




6 Домалюй предмети так, щоб їх порядок у кожному ряді не повторювався.


7 Знайди й обведи зайвий м'яч. Поясни свій вибір.










# Орієнтування у просторі

1 Уважно розглянь малюнок на килимку зліва. Розкажи, що де розташоване. Закрий малюнок аркушем паперу. На килимку справа намалюй такий самий малюнок.




2 Розфарбуй олівці так, щоб великий був між синім і жовтим, а жовтий — ліворуч від зеленого.



3 Розглянь фігури в кожному ряді. Домалюй у порожніх клітинках те, чого не вистачає.

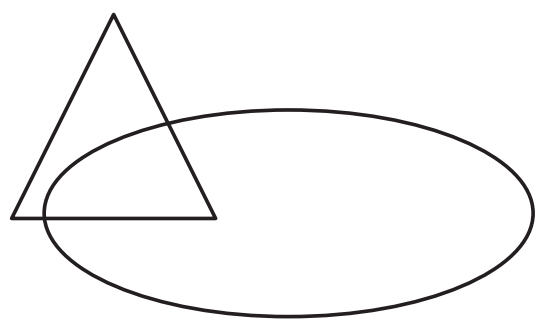
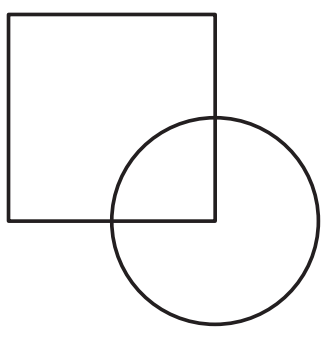
○	○	○
○	○	○
○	○	

○	○	○
○	○	
○	○	




# Орієнтування у просторі

4 Розфарбуй фігури так, щоб круг лежав на квадраті, трикутник — під овалом.



5 Намалюй синій овал так, щоб у нього потрапили мурахи й метелик, жовтий — так, щоб у ньому опинилися метелик і коники. Хто розташований усередині обох овалів?



6 Який малюнок зайвий? Обведи його. Поясни свій вибір.

