

Свойства предметов




- 1 Куклы собрались на прогулку, но запутались, где чьи платочки и корзины. Помоги куклам, соедини каждую с её платочком и корзиной.




- 2 Назови каждое животное. Подчеркни первый и последний рисунки. Найди лишнее животное. Сколько возможно вариантов ответов?



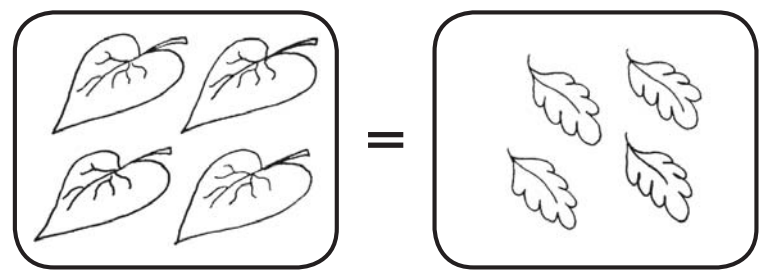
- 3 Раскрась бусы, сохраняя установленный порядок.



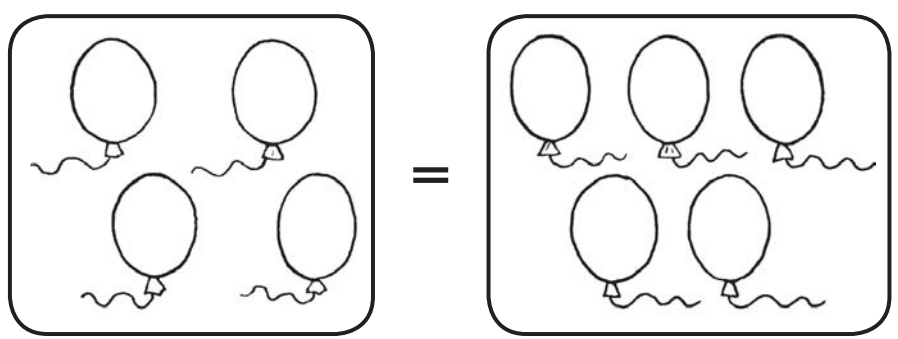


Сравнение


1) Рассмотрите большие листочки слева и маленькие — справа. Одинаково ли их количество? Обведите знак «=» красным карандашом, если это так.




2) Сколько воздушных шариков в каждой группе? Поровну ли их? Зачеркни знак «=», если не поровну. Раскрась те воздушные шарики, которых больше.



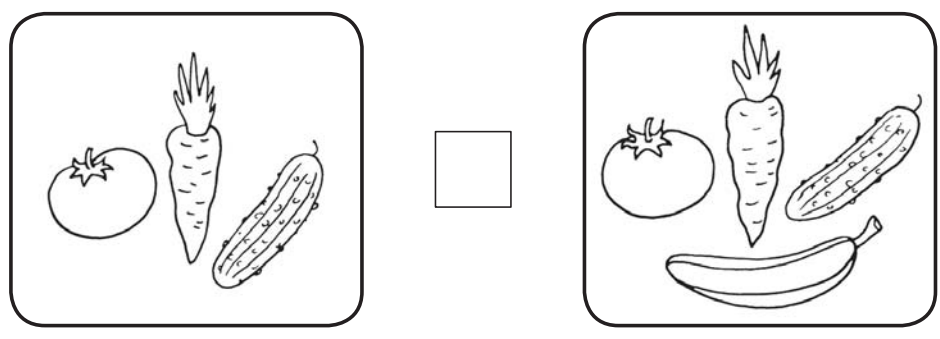
3) Поставь знак «=» или «≠».





Сравнение

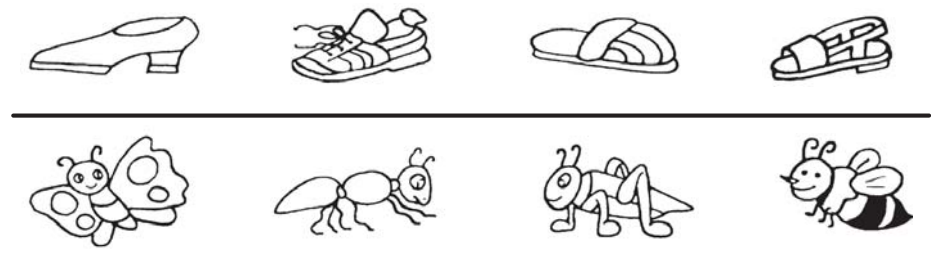
4 Назови предметы в каждой рамке. Одинаково ли их количество? Поставь знак «=» или «≠».



5 Дорисуй предметы слева и справа так, чтобы знаки «=», «≠» были правильными.

	=		≠	
	=		≠	
	=		≠	
	=		≠	

6 Посчитай предметы слева направо. В первом ряду обведи и назови каждый первый и третий предметы. Во втором ряду — каждый второй и четвёртый.






Число и цифра 1


1 Найди лишний рисунок и обведи его красным цветом. Объясни свой выбор.



2 Сколько вагонов везёт Мишутка?



3 Сколько карандашей в коробке? Обведи, закрась цифру 1.



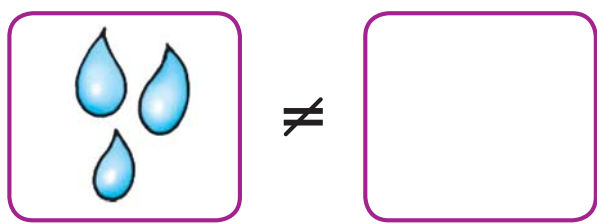
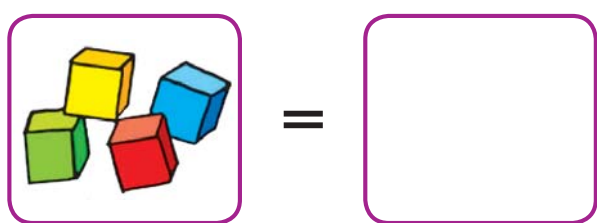
4 Рассмотрни ёлку. На что похож её контур? «Спрячь» цифру 1 в своём рисунке.



Число и цифра 1




5 Нарисуй предметы в рамочках так, чтобы все знаки были расставлены правильно.



6 Дорисуй предметы так, чтобы их порядок в каждом ряду не повторялся.



7 Найди и обведи лишний мяч. Объясни свой выбор.



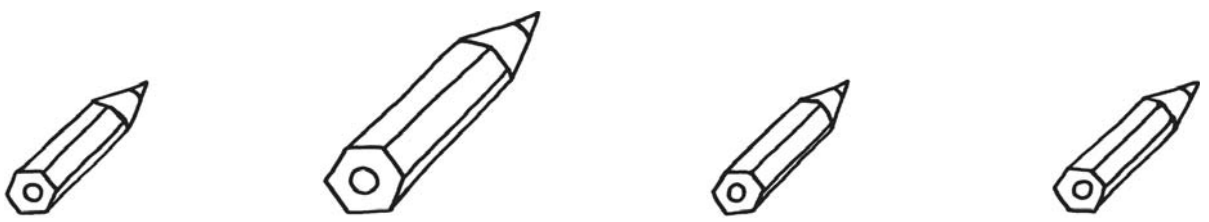


Ориентирование в пространстве


1 Внимательно рассмотри узор на коврике слева. Расскажи, что где расположено. Закрой рисунок листом бумаги. На коврике справа нарисуй такой же рисунок.



2 Раскрась карандаши так, чтобы большой был между синим и жёлтым, а жёлтый — слева от зелёного.

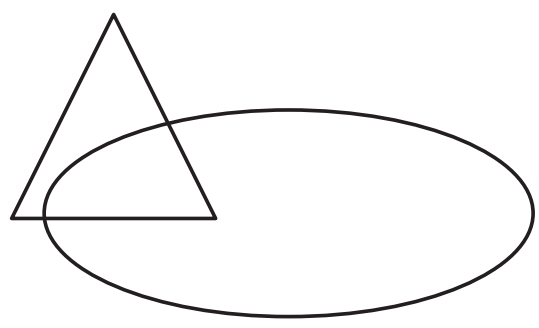
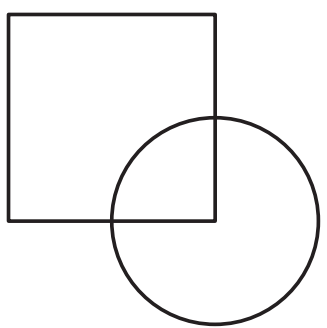


3 Рассмотри фигуры в каждом ряду. Дорисуй в пустых клеточках недостающее.




Ориентирование в пространстве

4 Раскрась фигуры так, чтобы круг лежал на квадрате, треугольник — под овалом.



5 Нарисуй синий овал так, чтобы в него попали муравьи и бабочка, жёлтый — чтобы в нём оказались бабочка и кузнечик. Кто находится внутри обоих овалов?



6 Какой рисунок лишний? Обведи его. Объясни свой выбор.

